



الاختبار الشهري الأول				
<p>1. مخرج التعلم الأول - يميز الأرقام ومقاديرها من 1 – 1000 .</p> <p>2. مخرج التعلم الثاني - يستخدم العمليات الحسابية البسيطة (الجمع – الطرح – القسمة).</p> <p>3. مخرج التعلم الثالث - يميز ويرسم الأشكال الهندسية الأساسية.</p> <p>4. مخرج التعلم الرابع - يقيس المساحات والأطوال.</p> <p>5. مخرج التعلم الخامس - يصنف المنتجات المختلفة حسب السعر والنوع.</p> <p>6. مخرج التعلم السادس - يصنف المنتجات المختلفة حسب الحجم والوزن.</p>		مخرج التعلم	يُطبق المفاهيم الرياضية والعمليات الحسابية	اسم الوحدة
الفصل الأول	2023	السنة الدراسية / الفصل الدراسي	جميع المخرجات المنجزة	معيار الأداء
		اسم المجموعة		اسم الطالب/ة

اسئلة الاختبار	
السؤال الأول	أكتب العدد في المكان الصحيح
السؤال الثاني	عد الأشكال وضع دائرة حول العدد الصحيح
السؤال الثالث	اوجد ناتج جمع وطرح ما يلي.
السؤال الرابع	ضع دائرة حول الشكل المطابق لصورة
السؤال الخامس	ضع علامة صح أمام حجم القلم الأطول.






1. السؤال الاول: أكتب العدد في المكان الصحيح.

7	5	2	9
---	---	---	---

1	.....	3	4	.....
6	.....	8	.....	10

2. السؤال الثاني: عد الأشكال وضع دائرة حول العدد الصحيح

		
2 3 5	1 4 9	3 8 6

3. السؤال الثالث : اوجد ناتج جمع وطرح ما يلي.


$$\square = \text{1 watermelon slice} - \text{2 watermelon slices}$$

$$\square = \text{1 apple} + \text{3 apples}$$

$$\square = \text{1 banana} - \text{3 bananas}$$

$$\square = \text{2 pineapples} + \text{1 pineapple}$$

السؤال الرابع : ضع دائرة حول الشكل المطابق. لصورة



4. السؤال الخامس: ضع علامة صح أمام حجم القلم الأطول.

